



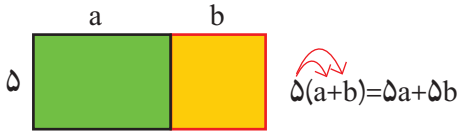
اگر دو کفه یک ترازو روبه‌روی هم قرار گیرند، می‌گویند ترازو در حال تعادل است. اگر از یک کفه ترازو چیزی را برداریم یا به آن چیزی اضافه کنیم، همین کار را باید در کفه دیگر نیز انجام دهیم تا جبران شود و ترازو در حالت تعادل بماند. کلمه جبر هم خانواده جبران نیز هست و معادله به معنی برقرار ماندن تعادل در دو طرف تساوی است.



## کار در کلاس



۱- در سال گذشته، ضرب یک عدد در برانتز را با شکل زیر یاد گرفتید.



این تساوی چگونه به کمک شکل به دست آمده است؟ توضیح دهید.

عبارت‌های جبری زیر را ساده کنید.

$$3(2x-1) + 2(x+3) = 6x - 3 + \text{---} + \text{---} =$$

$$-2(y-1) + 3(1-y) =$$

$$-(a-b+1) + 2(2a+b-3) =$$

۲- شما همچنین جمع و تفریق جمله‌های متشابه (جمله‌هایی که همه قسمت‌های حرفی

آنها یکی هستند) را یاد گرفتید. جمله‌های متشابه را پیدا کنید.

$$3x^2y \quad 7yx^2 \quad 2yx \quad -5x \quad +5y \quad -3xy \quad +4x \quad y$$

## فعالیت



۱- حاصل ضرب دو جمله را مانند نمونه به دست آورید. از کدام قانون ساده کردن

عبارت‌های توان دار استفاده می‌کنید؟ توضیح دهید.

$$(-3ba)(2a^2b^3) = -6a^2b^3 \quad a \times a^2 = a^3 \quad , \quad b \times b^2 = b^3$$

$$2a \times 3b = \quad -6a \times 2a^2 = \quad 4ba \times 3b^2 =$$

۲- با توجه به شکل و مساوی بودن مساحت‌ها در دو قسمت، یک تساوی جبری نتیجه بگیرید.



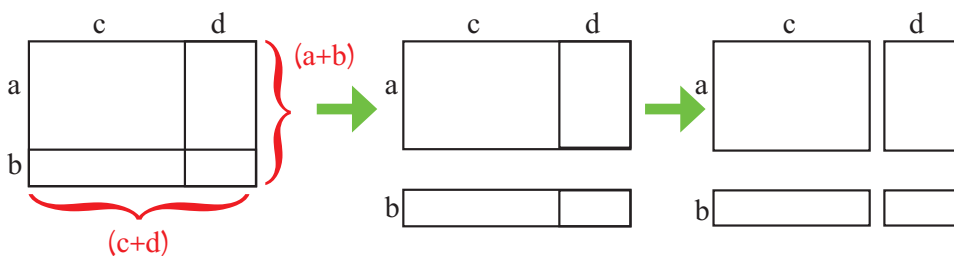
$$a(b+c) = \text{---} + \text{---}$$

با توجه به نتیجه‌ای که گرفته‌اید، ضرب‌های زیر را انجام دهید.

$$2a(a+b) =$$

$$3x(2x-1) =$$

۳- با توجه به شکل و مساوی بودن مساحت‌ها در دو قسمت، تساوی جبری را کامل کنید.



$$(a+b)(c+d) = a(c+d) + b(c+d) = \text{---} + \text{---} + \text{---} + \text{---}$$

$$(a+b)(c+d) = \text{---} + \text{---} + \text{---} + \text{---}$$

برای یافتن حاصل ضرب دو عبارت جبری، باید جمله‌های دو عبارت را در هم ضرب و سپس

ساده کنید.

$$(x+y)(x-y) =$$

$$(x-1)(x+1) =$$

$$(3x-2)(2x-3) =$$



### کار در کلاس

۱- عبارتهای زیر را ساده کنید.

$$4ax + a^2 + ax =$$

$$3ab + b^2 - a^2 - 5ab =$$

$$2a - 8xy + 2xy =$$

$$9x + 7x - 8x - 3 + 11x + 5 =$$

$$5(-2a) = \frac{3}{2}(4b) =$$

$$(-7)(-4x) = \left(-\frac{4}{5}\right)(2y) =$$

$$3a(-5x) = -\frac{1}{2}a(3b) =$$

$$(-a)(-b) = (-a)(-a) =$$

$$2x(3a-b) = 3y(2x-5y) =$$

$$(x+2)(x+1) =$$

$$(a+6)(a-6) =$$

۲- عدد ۴۷ را می‌توان به صورت  $4 \times 10 + 7$  یا  $40 + 7$  نوشت. به همین ترتیب، عددهای زیر را

به صورت گسترده بنویسید.

$$92 =$$

$$75 =$$

$$33 =$$

$$\overline{ab} = 10a + b$$

عدد دورقمی  $ab$  را با نماد  $\overline{ab}$  نمایش می‌دهیم؛ بنابراین:

## تمرین



۱- عدد دو رقمی  $\overline{ab}$  را در نظر بگیرید. عدد  $\overline{ba}$  را **مقلوب**  $\overline{ab}$  می‌گویند؛ چون در آن جای رقم‌ها عوض شده است. مجموع یک عدد و مقلوبش را به صورت گسترده بنویسید و حاصل جمع را ساده کنید.

$$\overline{ab} + \overline{ba} =$$

۲- جمله  $n$  ام هر یک از الگوهای جبری زیر را بنویسید.

۱، ۴، ۹، ۱۶، ۲۵، ...

۱، ۸، ۲۷، ۶۴، ۱۲۵، ...

۳- عبارت‌های جبری زیر را ساده کنید.

$$(a+3)(a+3)$$

$$(a-b)(a-b)=$$

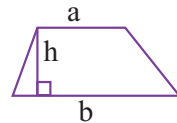
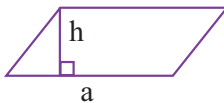
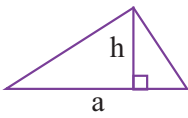
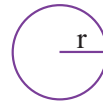
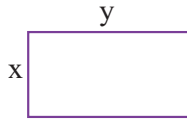
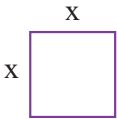
$$(a+3)(a-3)=$$

$$(a+b)(a-b)=$$

$$(x+y)(x+y)=$$

$$(2x-3y)(2x-3y)=$$

۴- مساحت هر شکل را با یک عبارت جبری بیان کنید.



۵- دانش‌آموزی عبارت‌های جبری زیر را به صورت نادرست ساده کرده است. اشتباه او را

پیدا کنید.

$$a(b+c) = ab + c \quad (\text{الف})$$

$$2x + 3y - (2x - y) = 2x + 3y - 2x - y = 2y \quad (\text{ب})$$

۶- با توجه به شکل، یک تساوی جبری بنویسید.



فعالیت



۱- ماشین عددساز  $\times$  عدد ورودی را در عدد داخل ماشین ضرب می‌کند. ماشین عددساز  $+$  عدد ورودی را با عدد داخل ماشین جمع می‌کند. مانند نمونه، خروجی هر ماشین را مشخص کنید یا عدد داخل ماشین را بنویسید.

$a + 4$  : خروجی  $\rightarrow$   $+$   $4$   $\rightarrow$  ورودی  $a$  :  $7 \times (-3) = -21$  : خروجی  $\rightarrow$   $\times$   $-3$   $\rightarrow$  ورودی  $7$  :

$\circ$  : خروجی  $\rightarrow$   $+$   $-5$   $\rightarrow$  ورودی  $\circ$  :  $5$  : خروجی  $\rightarrow$   $\times$   $5$   $\rightarrow$  ورودی  $4$  :

$c$  : خروجی  $\rightarrow$   $+$   $0$   $\rightarrow$  ورودی  $c$  :  $2$  : خروجی  $\rightarrow$   $\times$   $2$   $\rightarrow$  ورودی  $b$  :

$5$  : خروجی  $\rightarrow$   $+$   $13$   $\rightarrow$  ورودی  $13$  :  $\circ$  : خروجی  $\rightarrow$   $\times$   $8$   $\rightarrow$  ورودی  $8$  :

۲- خروجی یک ماشین  $\times$  را به ورودی یک ماشین  $+$  می‌بندیم و یک ماشین ترکیبی می‌سازیم. مانند نمونه، خروجی هر ماشین را مشخص کنید.

$3x - 5$  : خروجی  $\rightarrow$   $+$   $-5$   $\rightarrow$   $3x$  : ورودی  $x$  :  $1$  : خروجی  $\rightarrow$   $+$   $-5$   $\rightarrow$   $6$  : ورودی  $2$  :

$8 - x$  : خروجی  $\rightarrow$   $+$   $-x$   $\rightarrow$   $8$  : ورودی  $x$  :  $8$  : خروجی  $\rightarrow$   $+$   $8$   $\rightarrow$   $-1$  : ورودی  $7$  :

$3$  : خروجی  $\rightarrow$   $+$   $3$   $\rightarrow$   $10$  : ورودی  $x$  :  $3$  : خروجی  $\rightarrow$   $+$   $3$   $\rightarrow$   $10$  : ورودی  $5$  :

به این ترتیب، می‌توانیم عملکرد هر ماشین ترکیبی را به شکل خلاصه، مانند مثال زیر، بنویسیم :

$y = 7x + 4$  عملکرد ماشین ترکیبی

$y$  : خروجی  $\rightarrow$   $+$   $4$   $\rightarrow$   $7$  : ورودی  $x$  :

## کار در کلاس



۱- عدد  $x$  به ماشین‌های زیر وارد و عدد  $y$  از آنها خارج می‌شود. با توجه به کاری که این ماشین‌ها انجام می‌دهند، عددهای خروجی را بنویسید.

$$-2 \longrightarrow \boxed{3x-1} \longrightarrow$$

$$4 \longrightarrow \boxed{-2x+1} \longrightarrow$$

$$0 \longrightarrow \boxed{\frac{1}{2}x+1} \longrightarrow$$

$$\frac{4}{7} \longrightarrow \boxed{-7x+2} \longrightarrow$$

۲- با توجه به جدول‌های زیر و رابطه  $x$  و  $y$ ، جاهای خالی جدول‌ها را پر کنید:

x	y
۱	
۲	
۵	

$$y=3x+1$$

x	y
۳	
-۲	
-۴	
	۲۵

$$y=5x$$

x	y
۴	
-۲	
	۰
	-۱۴

$$y=x-7$$

x	y
۴	
-۲	
	۰
	۵

$$y=2x-3$$

۳- با توجه به عددهای ورودی و خروجی، در هر ردیف کاری را که ماشین

انجام می‌دهد حدس بزنید.

$$3 \longrightarrow \boxed{\phantom{00}} \longrightarrow 6 \text{ و } -7 \longrightarrow \boxed{\phantom{00}} \longrightarrow -14 \text{ و } 5 \longrightarrow \boxed{\phantom{00}} \longrightarrow 10 \quad y=$$

$$5 \longrightarrow \boxed{\phantom{00}} \longrightarrow 8 \text{ و } 11 \longrightarrow \boxed{\phantom{00}} \longrightarrow 14 \text{ و } -4 \longrightarrow \boxed{\phantom{00}} \longrightarrow -1 \quad y=$$

## فعالیت



۱- به عددهای زوج زیر توجه کنید. همان‌طور که می‌بینید، هر عدد زوج را می‌توان به صورت  $2 \times n$  نشان داد.

$$\begin{array}{ccccc} 2 & 4 & 6 & 8 & 10 \\ \downarrow & \downarrow & \downarrow & \downarrow & \downarrow \end{array}$$

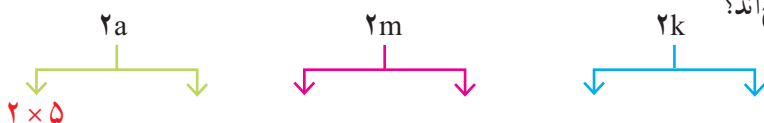
$$2 \times 1 \quad 2 \times 2 \quad 2 \times 3 \quad 2 \times \text{---} \quad 2 \times \text{---}$$

۲- عددهای زوج زیر را به صورت  $2n$  ( $n$  یک عدد طبیعی باشد) نشان دهید.



۳- در عبارت های زیر به جای حروف  $m, k$  و  $a$  عددهای طبیعی مختلفی قرار دهید. آیا

عددهای حاصل، زوج اند؟



۴-  $a, b, c$  را عددهای طبیعی در نظر بگیرید و به سؤال های زیر پاسخ دهید :

- آیا عبارت  $2b$  یک عدد زوج را نشان می دهد؟

- آیا عبارت  $4c$  یک عدد زوج را نشان می دهد؟ چرا؟

- آیا عبارت  $2ab$  یک عدد زوج را نشان می دهد؟ چرا؟

۵- آیا حاصل ضرب هر دو عدد زوج عددی زوج است؟

برای پاسخ دادن به این سؤال، ابتدا مانند نمونه چند مثال بزنید.

$4 \times 2 = 8$	$8 \times \underline{\quad} = \underline{\quad}$	$\underline{\quad} \times \underline{\quad} = \underline{\quad}$
$\underline{\quad} \times \underline{\quad} = \underline{\quad}$	$\underline{\quad} \times 10 = \underline{\quad}$	$\underline{\quad} \times \underline{\quad} = \underline{\quad}$

برای اینکه بدون مثال و در حالت کلی اثبات کنیم که جمله بالا درست است، دو عدد زوج را

به صورت  $2m$  و  $2n$  در نظر می گیریم و حاصل ضرب آنها را می نویسیم.

$$2m \times 2n = 2(m \times 2 \times n)$$

چگونه این تساوی ثابت می کند که حاصل ضرب دو عدد زوج عددی زوج است؟ توضیح دهید.

## کار در کلاس



مانند سؤال ۵ فعالیت بالا، ثابت کنید که حاصل ضرب یک عدد زوج در یک عدد فرد، عددی

زوج است.

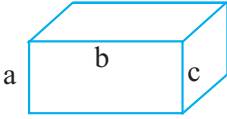
الف) چند مثال بزنید.

ب) به صورت جبری ثابت کنید:  $2m - 1 =$  عدد فرد  $2n =$  عدد زوج

$(2m-1) \times 2n =$  حاصل ضرب عدد زوج در عدد فرد



## تمرین



۱- مساحت کل مکعب مستطیل روبه‌رو

را به صورت جبری بنویسید.

اگر  $a = 2$  و  $b = 6$  و  $c = 3$  باشند، مساحت کل چقدر می‌شود؟

۲- مساحت قاعده منشوری  $20^\circ$  و ارتفاع آن ۴ است. حجم این منشور را با نوشتن رابطه

جبری حجم منشورها به دست آورید.

۳- قاعده‌های دوزنقه‌ای ۴ و ۷ سانتی‌متر و ارتفاع آن ۲ سانتی‌متر است. مساحت این دوزنقه

را پس از نوشتن رابطه جبری مساحت دوزنقه حساب کنید.

۴- آیا  $x = 2$  و  $x = -2$  پاسخ معادله  $x^2 = 4$  هستند؟ چرا؟

۵- طول یک لوله  $x$  متر است. طول لوله دیگر  $y$  برابر لوله اول است. طول لوله دوم را

به صورت جبری بنویسید.



۶- یک زمین والیبال مستطیل شکل، دارای  $x$  متر عرض

و  $2x$  متر طول است. مساحت این زمین را به صورت جبری نشان

دهید. اگر عرض این زمین ۹ متر باشد، مساحت آن چند متر مربع است؟

۷- در درس علوم یاد می‌گیرید که انرژی پتانسیل ذخیره شده در یک جسم، از رابطه  $U = mg \cdot h$

به دست می‌آید که در آن،  $U$  انرژی پتانسیل،  $m$  جرم جسم،  $g$  شتاب زمین و  $h$  ارتفاع جسم است. در صورتی

که جسمی به جرم ۲۵ کیلوگرم تا ارتفاع ۴ متر بالا برود، مقدار انرژی پتانسیل آن را پیدا کنید. (شتاب زمین

را  $10$  فرض کنید.)

۸- با توجه به رابطه  $x$  و  $y$ ، مقدار  $y$  را برای  $x$ های مختلف پیدا کنید.

x	y
۱	
۰	
۲	
-۱	

$$y = x - 3$$

x	y
۱	
۰	
۲	
-۱	

$$y = -2x + 1$$

x	y
۲	
-۲	
۰	
-۱	

$$y = x^2$$

## فعالیت



۱- در دورهٔ دبستان یاد گرفتید که با تبدیل صورت و مخرج کسر به ضرب عددها، می‌توان کسر را ساده کرد.

$$\frac{6}{9} = \frac{2 \times \cancel{3}}{3 \times \cancel{3}} = \frac{2}{3}$$

کسرهای زیر را مانند نمونه ساده کنید.

$$\frac{12}{18} =$$

$$\frac{15}{35} =$$

۲- بعضی از عبارات‌های جبری را نیز می‌توان به صورت ضرب دو یا چند عبارت نوشت:

$$a(b+c) = ab+ac \quad \text{خاصیت توزیع‌پذیری}$$

$$ab + ac = a(b + c)$$

(تبدیل به ضرب) تجزیه کردن

با توجه به تساوی بالا، عبارات‌ها را به ضرب تبدیل کنید.

$$2ab + 4a^2b^2 = 2ab(1 + \quad)$$

$$x + xy =$$

$$5ab + 8ac = a(\quad + \quad)$$

$$3a + ab =$$

$$4a^2 + 2ab = 2a(\quad + \quad)$$

$$5ab + 3b =$$

۳- برای تجزیهٔ یک عبارت جبری، عامل یا بخش مشترک دو یا چند عبارت را پیدا می‌کنیم و

بیرون برانز می‌نویسیم. برای تشخیص قسمت مشترک، می‌توان عبارات‌ها را به صورت ضرب نوشت:

$$\begin{aligned} 6x^2y^2 + 9x^2y^2 &= 2 \times 3 \times x \times x \times y \times y + 3 \times 3 \times x \times x \times y \times y \\ &= 2 \times 3 \times x^2 \times y^2 \times y + 3 \times 3 \times x^2 \times y^2 \times x \end{aligned}$$

با توجه به تساوی بالا، عامل مشترک دو جملهٔ عبارت جبری چیست؟

با ضرب کردن چه عبارتی در جملهٔ مشترک، جملهٔ اول عبارت ساخته می‌شود؟

با ضرب کردن چه عبارتی در جملهٔ مشترک، جملهٔ دوم عبارت ساخته می‌شود؟

حالا این تساوی را کامل کنید.  $6x^2y^2 + 9x^2y^2 = \text{---} (\text{---} + \text{---})$

۴- با توجه به سؤال بالا، عبارت‌های جبری زیر را تجزیه کنید.

$$ab+ac=$$

$$ab-ac=$$

$$5ab+3abc=$$

$$6ab+3a^2=$$

$$4x^2y+6xy^2=$$

$$8x^2y^2-4xy^2=$$

۵- ابتدا صورت و مخرج کسر را به ضرب دو عبارت تجزیه و سپس آن را ساده کنید.

$$\frac{ab+ac}{ab-ac} =$$

$$(a \neq 0, b \neq c)$$

$$\frac{a^2-a}{ab-b} =$$

$$(a \neq 1, b \neq 0)$$

## کار در کلاس



۱- عبارت‌های زیر را به ضرب تبدیل کنید.

$$x \times 2^a - y \times 2^a =$$

$$42xy^2 - 35x^2y^2 =$$

$$2^x \times 2^y - 2^x \times 2^z =$$

$$-a^2 + 2a^2 =$$

۲- با تبدیل به ضرب، صورت و مخرج کسر را ساده کنید.  $(a \neq b, ab \neq 0)$

$$\frac{a^2b - ab^2}{a^3b^2 - a^2b^3} =$$

۳- آیا تساوی  $-a-b = -(a+b)$  همواره برقرار است؟

۴- چرا مجموع دو عدد زوج، عددی زوج می‌شود؟

$$2n : \text{عدد زوج}$$

$$2m : \text{عدد زوج دیگر}$$

$$2n + 2m : \text{مجموع دو عدد زوج}$$

## خواندنی

خوارزمی در کتاب جبر و مقابله خود برای عددهای علامت‌دار اصطلاحاتی به کار برده است. برای مثال ۵- را «پنج ناقص» و ۵+ را «پنج زاید» خوانده است. با اینکه در زمان خوارزمی کاربرد حروف متداول نبوده است، او در حل معادله‌های جبری، مجهول را «شیئی» و مجذور مجهول را «مال» نامیده است.

## فعالیت



۱- تفاوت  $x^2$  و  $2x$  چیست؟

$$x^2 =$$

$$2x =$$

۲- مانند نمونه، طرف دیگر تساوی‌ها را بنویسید.

$$3^2 = 3 \times 3$$

$$(-5)^2 = \text{---} \times \text{---} \quad a^2 = \text{---} \times \text{---}$$

$$\square^2 = \square \times \square$$

$$\triangle^2 = \text{---} \times \text{---} \quad (a+b)^2 = \text{---} \times \text{---}$$

۳- جدول زیر را برای مقادیر مختلف  $a$  و  $b$  کامل کنید.

a	۱	۲	۰	۲	-۱
b	۱	۰	-۳	۴	-۲
$(a+b)^2$					
$a^2 + b^2$					

از مقایسه دو ردیف آخر، چه نتیجه‌ای می‌گیرید؟

۴- مانند نمونه، عبارت‌ها را ساده کنید.

$$(a+b)^2 = (a+b)(a+b) = a^2 + ab + ab + b^2 = a^2 + 2ab + b^2$$

$$(x-y)^2 =$$

$$(2x+1)^2 =$$

## کار در کلاس



۱- مانند نمونه، تساوی‌ها را کامل کنید.

$$x^5 = x \times x \times x \times x \times x$$

$$-x^2 =$$

$$(-x)^2 =$$

$$(a-b)^2 =$$

$$(a+b)^2 =$$

$$(x+1)^2 =$$

۲- چرا  $ba = ab$  است؟ (از کدام خاصیت ضرب استفاده می‌شود؟)

۳- عبارت زیر را ساده کنید.

$$-(a+b)^2 =$$

آیا منفی به توان ۲ می‌رسد؟ چرا؟

## تمرین



۱- آیا  $b-a = -(a-b)$  است؟ چرا؟

۲- چرا مجموع دو عدد فرد، عددی زوج می‌شود؟

۳- مجموع دو عدد که یکی زوج و دیگری فرد باشد، زوج می‌شود یا فرد؟ چرا؟

۴- عبارتهای جبری زیر را ساده کنید.

$$(a+3)^2 =$$

$$(a-b)^2 =$$

$$(x+7)(x-7) =$$

$$(x+1)^2 =$$

$$a^2 + b^2 - (a-b)^2 =$$

$$(2x-3y)^2 =$$

۵- با توجه به پیکان‌های رسم شده، عبارت را ساده کنید.

$$(x-1)(x^2+x+1)$$

۶- نشان دهید که تفاضل هر عدد دو رقمی از مقلوبش، مضرب ۹ است.

۷- اگر دو پراتنز زیر را در هم ضرب کنیم، چند جمله خواهیم داشت؟ چرا؟

$$(a+b+c)(z+y+x)$$

## خواندنی

### خوارزمی

ابو عبدالله محمد بن موسی خوارزمی حدود سال ۱۳۵ هجری قمری در شهر خوارزم (که امروز خیوه نامیده می‌شود) متولد شد. وی یکی از مفاخر علمی ایران و جهان و از بزرگ‌ترین دانشمندان مسلمان در قرن‌های گذشته است.

یکی از آثار خوارزمی کتاب جبر و مقابله است. این کتاب نخستین کتابی است که نام جبر را بر خود دارد و نام جبر به‌عنوان بخشی از ریاضی، از نام این کتاب گرفته شده است. از این نظر، خوارزمی را می‌توان یکی از بنیان‌گذاران علم جبر دانست. امروز جبر به شاخه‌ای مهم از ریاضی گفته می‌شود.

کتاب حساب خوارزمی در قرن دوازدهم هجری به زبان‌های اروپایی ترجمه شد و به «الخوریسمی» یا «الگوریسمی» که از نام «الخوارزمی» گرفته شده بود، شهرت یافت. بعدها الگوریسم یا الگوریتم (Algorithm) به معنای فن محاسبه (یعنی حساب) به کار رفت. امروزه الگوریتم به روشی از محاسبه گفته می‌شود که در آن محاسبه مرحله به مرحله انجام می‌گیرد و محاسبه هر مرحله به مراحل قبلی بستگی دارد.

فعالیت

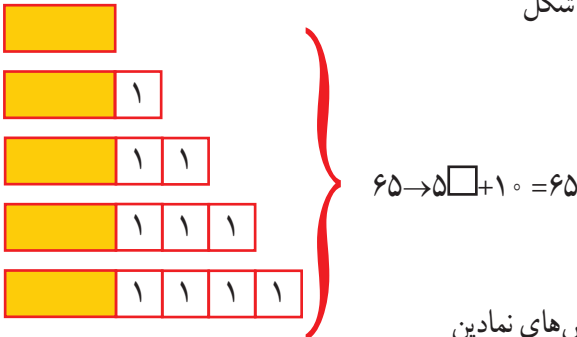


۱- حاصل جمع پنج عدد متوالی طبیعی ۶۵ شده است. عدد وسط چه عددی است؟  
 چهار دانش‌آموز این مسئله را با راهبردهای مختلف حل کرده‌اند. راه حل هر کدام را کامل کنید و توضیح دهید.

راه حل سمیه: راهبرد حدس و آزمایش

عدد اول	عدد دوم	عدد سوم	عدد چهارم	عدد پنجم	حاصل جمع
۵	۶	۷	۸	۹	۳۵
۷	۸	۹	۱۰	۱۱	۴۵
۱۱	۱۲	۱۳	۱۴	۱۵	۶۵

راه حل فریده: راهبرد رسم شکل



راه حل فهیمه: راهبرد روش‌های نمادین

$$\bigcirc + (\bigcirc + 1) + (\bigcirc + 2) + (\bigcirc + 3) + (\bigcirc + 4) = 65$$

$$5\bigcirc + 10 = 65$$

عدد وسطی را در تساوی بالا مشخص کنید.

راه حل مهدیه: راهبرد تشکیل معادله

$$x + (x+1) + (x+2) + (x+3) + (x+4) = 65$$

$$5x + 10 = 65$$

راه حل فرشته: راهبرد تشکیل معادله

$$(x-2) + (x-1) + x + (x+1) + (x+2) = 65$$

تفاوت راه‌حل‌های فرشته و مهدیه را توضیح دهید.

۲- مهدیه با توجه به آنچه سال گذشته آموخته بود، معادله خود را به صورت زیر حل کرد :

$$\begin{array}{l} 5x+10=65 \\ \downarrow -10 \\ 5x+10-10=65-10 \\ 5x=55 \\ \downarrow \times \frac{1}{5} \\ \frac{1}{5} \times 5x = \frac{1}{5} \times 55 \\ x=11 \end{array}$$

معلم راه حل مهدیه را به صورت زیر خلاصه کرد. توضیح دهید در این روش معنی پیکان‌ها

چیست؟

$$\begin{array}{l} 5x+10=65 \\ 5x=65-10 \\ 5x=55 \rightarrow x = \frac{55}{5} = 11 \end{array}$$

۳- با توجه به سؤال بالا، روش حل معادله را توضیح دهید. سپس معادله‌های دیگر را به همین

ترتیب حل کنید.

$$2x-3=x+5$$

$$3x-1=x-7$$

$$2(x-1)=3(x+4)$$

$$2x-x=5+3$$

$$x=8$$

کار در کلاس



معادله‌های زیر را حل کنید.

$$5(x-2)=8$$

$$x+4=16$$

$$4x-3=2x-1+5x$$

$$1-2x=-(x-1)+2$$

$$2(x-1)=3(1-x)$$

$$2x-3(1-x)=0$$

## فعالیت



۱- معادله زیر را دو دانش آموز حل کرده اند. راه حل آنها را توضیح دهید. ویژگی های هر کدام از روش ها را بگویید و در کلاس با یکدیگر در این باره گفت و گو کنید.

### راه حل یگانه

$$\frac{1}{2}x - \frac{1}{3} = \frac{5}{6}$$

$$\frac{1}{2}x = \frac{5}{6} + \frac{1}{3}$$

$$\frac{1}{2}x = \frac{7}{6}$$

$$x = \frac{\frac{7}{6}}{\frac{1}{2}} = \frac{14}{6}$$

$$x = \frac{7}{3}$$

### راه حل یکتا

$$\frac{1}{2}x - \frac{1}{3} = \frac{5}{6}$$

$$6 \times \left( \frac{1}{2}x - \frac{1}{3} \right) = 6 \times \frac{5}{6}$$

$$6 \times \frac{1}{2}x - 6 \times \frac{1}{3} = 6 \times \frac{5}{6}$$

$$3x - 2 = 5$$

$$3x = 7$$

$$x = \frac{7}{3}$$

چرا یکتا عدد ۶ را برای ضرب کردن انتخاب کرده است؟

۲- دو دانش آموز کسر  $\frac{x+3}{2}$  را به صورت زیر در ۶ ضرب کرده اند. کدام یک اشتباه کرده است؟ اشتباه او را توضیح دهید.

$$6 \times \left( -\frac{x+3}{2} \right) = -3x - 9$$

$$6 \times \left( -\frac{x+3}{2} \right) = -3x + 9$$

## کار در کلاس



معادله های زیر را حل کنید.

$$\frac{2}{3}x - \frac{1}{2} = \frac{1}{6}$$

$$\frac{3}{5}x - \frac{1}{2} = \frac{3}{4}$$

$$-\frac{6}{25}x - \frac{4}{15} = \frac{8}{3}$$

$$\frac{x+1}{2} = \frac{x+2}{3}$$



## تمرین



۱- معادله‌های زیر را حل کنید.

$$-\frac{3}{8}x + 5 = \frac{1}{6}$$

$$\frac{5}{12}x - \frac{7}{18} = 2$$

$$4x + \frac{2}{7} = \frac{3}{2}x$$

$$2x - \frac{2}{3} = 5x + 3$$

$$1 - \frac{x+1}{2} = \frac{1}{3}$$

$$\frac{1}{2} - \frac{2x-1}{4} = \frac{3}{4}$$

۲- عرض مستطیلی ۵ سانتی متر و محیط آن ۲۴ سانتی متر است. طول این مستطیل چقدر است؟

۳- هفت برابر عددی به اضافه ۴ مساوی ۵۸ است. آن عدد چند است؟

۴- حاصل جمع سه عدد متوالی طبیعی ۲۷ شده است. کوچک‌ترین این عددها را پیدا کنید.

۵- از پنج برابر عددی ۳ تا کم کردیم؛ عدد ۱۷ به دست آمد. آن عدد چند است؟

۶- اگر مربع عددی به آن عدد اضافه شود، عدد حاصل، ۴۲ خواهد بود. کدام یک از مقادیر

زیر می‌تواند مقدار آن عدد باشد؟

الف) ۴۲      ب) ۱۴      ج) -۶      د) -۷      ه) -۵

۷- تعداد کتاب‌های محمد دو برابر تعداد کتاب‌های بهرام است. علی ۶ کتاب بیشتر از بهرام دارد.

اگر بهرام  $x$  تا کتاب داشته باشد، یک عبارت جبری بنویسید که مجموع کتاب‌های این سه نفر را نشان دهد.

۸- پدری ۴۵ سال دارد. دو فرزند او ۹ و ۱۴ ساله‌اند. پس از چند سال سن پدر با مجموع

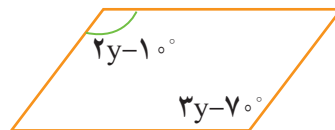
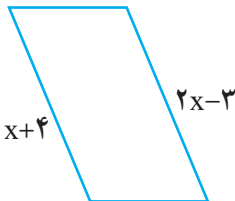
سن فرزندان برابر می‌شود؟

۹- در درس علوم یاد گرفتید که کار انجام شده برابر است با مقدار نیرو در اندازه جابه‌جایی.

این رابطه را با تساوی  $W = F \cdot d$  نشان می‌دهیم. اگر کار انجام شده ۱۲ و مقدار نیرو ۴ باشد، مقدار

جابه‌جایی را حساب کنید.

۱۰- معادله‌ها را با توجه به شکل‌های زیر حل کنید.



## مرور فصل ۴

### مفاهیم و مهارت‌ها

در این فصل واژه‌های زیر به کار رفته‌اند مطمئن شوید که می‌توانید با جمله‌های خود، آنها را توصیف کنید و برای هر کدام مثالی بزنید.

- جمله‌های متشابه
- معادله
- تجزیه کردن (تبدیل به ضرب)

در این فصل، روش‌های اصلی زیر مطرح شده‌اند، با یک مثال هر کدام را توضیح دهید و در دفتر خود خلاصه درس را بنویسید.

- تبدیل عبارت جبری به عبارت کلامی و برعکس
- ساده کردن یک عبارت جبری با جمع جمله‌های متشابه
- ضرب جمله در پرانتز
- پیدا کردن مقدار عددی یک عبارت
- تبدیل یک عبارت به ضرب
- بیان رابطه جبری برای الگوهای مساحت و محیط و ...
- ضرب جمله در جمله
- ضرب پرانتز در پرانتز
- حل معادله‌های کسری

### کاربرد

موضوع‌های این فصل علاوه بر کاربردهایی که در ریاضی دارد، به شما در حل مسئله‌های روزمره نیز کمک می‌کند. شما با تشکیل معادله و حل آن می‌توانید مسائل زیادی را حل کنید. به همین ترتیب، می‌توانید در سایر درس‌ها، مثل علوم، نیز از رابطه‌ها و معادله‌های جبری استفاده کنید.

### تمرین ترکیبی

۱- عبارت جبری زیر را ساده کنید.

$$(a+b)^2 - (a-b)^2 =$$

مقدار عددی عبارت حاصل را به ازاء  $a = 2$  و  $b = -2$  به دست آورید.

۲- معادله‌های زیر را حل کنید.

$$\frac{x-1}{2} - \frac{x+1}{3} = \frac{1}{6}$$

$$2x - 1 = 3(x - 1)$$